

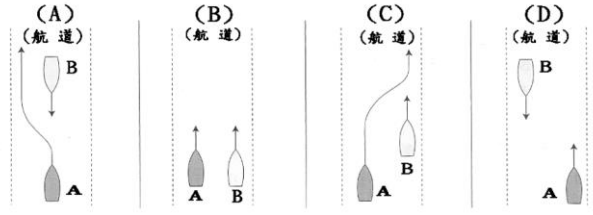
遊艇與動力小船駕駛測驗題庫勘誤表 (108/05/29 第五次勘誤)

營業用 P.11/海事法規-船舶檢丈等

(C)	72.	小船或遊艇進出漁港之申報，下列所述，何者為正確？ (A)進出港應在進出港前 12 小時提出 (B)進港應在 6 小時前提出，而出港為 12 小時 (C)在漁港法中無條文規定 (D)先出入港再申請即可
-----	-----	---

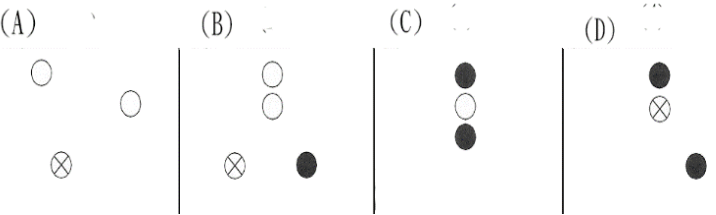
※選項(B)修正文字，原「入港」改為「出港」

營業用 P.24/避碰規則-各種航法

(D)	53.	下圖為 A 船與 B 船在航道上航行狀況，其中那一項為正確之航行方法？ 
-----	-----	--

※題目酌修文字

營業用 P.26/避碰規則-燈號、號標、號笛、旗號

(C)	7.	夜晚航行中之正在從事漁撈作業漁船 (A 船)，如與他船之間有碰撞危機，此時 A 船依所見之燈標判斷本船為讓路船，他船之燈標為下圖何者？ ○指白燈，●指紅燈，⊗指綠燈 
-----	----	--

※題目酌修文字

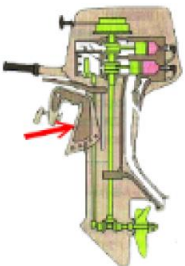
營業用 P.52/氣(海)象常識

(B)	36.	對半日潮之海岸，每日漲退潮次數有幾次？ (A)一次 (B)二次 (C)三次 (D)四次
-----	-----	--

※題目文字修正

營業用 P.64/船機常識-內燃機基本知識

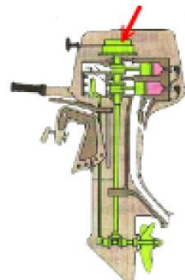
(D)	57.	下圖中箭頭所指為舷外機之何部件？ (A)注油器 (B)水葉輪 (C)油箱 (D)艉橫材架
-----	-----	---



※答案修正為選項(D)

營業用 P.64/船機常識-內燃機基本知識

(C)	59.	下圖中箭頭所指為舷外機之何部件？ (A)飛輪式永磁發電機 (B)風門開關 (C)啟動拉盤 (D)空氣過濾器外殼
-----	-----	--



※答案修正為選項(C)

營業用 P.87/船機常識-操作運轉

(D)	102.	小船在航行中，下列哪一項現象無法判斷其引擎轉狀況無異常？ (A)引擎聲音 (B)排氣顏色 (C)振動 (D)俯仰
-----	------	---



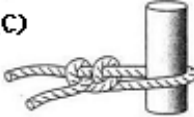

※相似題目重複，爰以修正

營業用 P.88/船機常識-操作運轉

(C)	108.	間接冷却式柴油機，冷却水之恒温器(Thermostat)破損時，妨碍引擎之冷却，其理由最恰当者为下列何项？ (A)由於循環淡水無法以一定水量送水 (B)由於冷却水溫度感應器没有機能 (C)由於適溫之冷却水，無法在引擎內循環 (D)由於淡水貯存櫃內之水量減少
-----	------	--


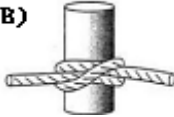


※答案修正為選項(C)

營業用 P.109/船藝與操船-甲板設備與繩索

(D)	11.	下列繩結，何者為雙接繩結？ (A)  (B)  (C)  (D) 
-----	-----	---

※題目酌修文字

營業用 P.110/船藝與操船-甲板設備與繩索

(C)	13.	下列繩結，何者為稱人結？ (A)  (B)  (C)  (D) 
-----	-----	--

※題目酌修文字

營業用 P.111/船藝與操船-甲板設備與繩索

(B)	25.	下列何者正確？ (甲)載客小船所用充氣式救生衣 (乙)載客小船所增備之兒童救生衣應為核定人數之 10% (A)只有(甲)正確 (B)只有(乙)正確 (C)兩者皆對 (D)兩者皆錯
-----	-----	--

※題目酌修文字

營業用 P.111/船藝與操船-甲板設備與繩索

(C)	26.	小船上如有爐灶設備並以液化石油氣做為燃料者，下列何者正確？ (甲)液化石油氣瓶應置於露天通風良好且陰涼處 (乙)在設置燃燒液化石油氣之艙間應裝置固定式氣體偵測設備 (A)只有(甲)正確 (B)只有(乙)正確 (C)兩者皆對 (D)兩者皆錯
-----	-----	--

※題目酌修文字